


Зачет 2 класс

1. Назовите периоды, на которые делится первобытное искусство. Определите, к какому периоду первобытного искусства относится иллюстрация.



2. Дайте определение понятию «петроглифы».

3. Перечислите периоды, на которые делится искусство Древнего Египта. Определите к какому периоду относятся архитектурные сооружения.




4. Дайте определение понятию «Мастаба».

5. Расскажите о декоративных приемах украшения мебели на иллюстрациях искусства Древнего Египта.



6. Соотнесите названия и иллюстрациям архитектуры стран Междуречья.

- 1) Ворота богини Иштар
- 2) Висячие сады Семирамиды
- 3) Дворец Ашшурбанипала в Ниневии



7. Расскажите об особенностях архитектуры Древней Индии.

8. Соотнесите изображение и названия памятника.

- 1) Пещерные храмы в Аджанте
- 2) Буддийский монастырь в Санчи
- 3) Тадж-Махал



9. Определите ордера колонн архитектуры Древней Греции.

- 1) Дорический
- 2) Ионический
- 3) Коринфский



10. Перечислите 3 периода развития греческой скульптуры и подберите соответствующие особенности:


- а) схематичность, непропорциональность, полуулыбка, придающая работам загадочность и глубину
- б) гармония, идеальные пропорции (что говорит об отличных знаниях анатомии человека), а также внутреннее содержание и динамика, появление первых обнаженных женских фигур
- в) сложные ракурсы, изысканные драпировки, многочисленные детали, сюжет предполагает сильные эмоции

11. Прямоугольное в плане здание с колоннами по периметру в 2 ряда:

- а) диптер
- б) периптер
- в) фронтальная композиция

12. Назовите виды вазописи Древней Греции. Расскажите об особенностях разных видов вазописи.

13. Назовите особенности и основные памятники Римской архитектуры



14. Образцы какого государства копировали в скульптуре римляне? В чем римляне проявили свою оригинальность?

15. Дайте определение понятию «фаюмские портреты».